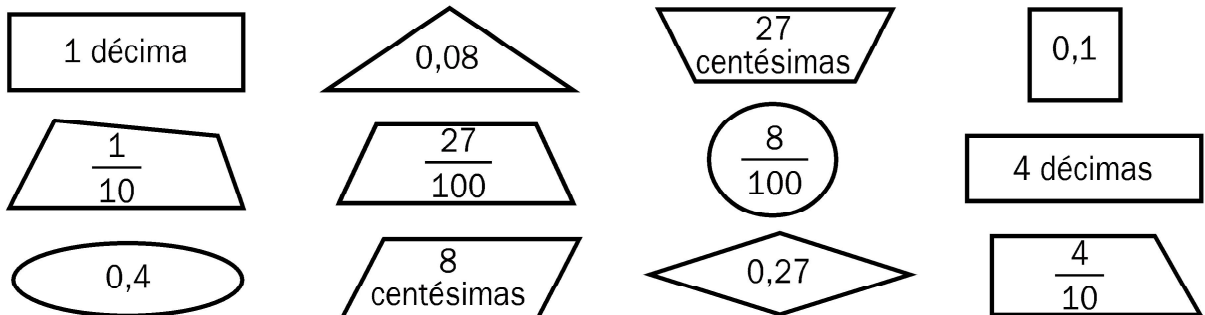



Recuerda

- Cuando dividimos una unidad en 10 partes iguales, cada una de esas partes es una **décima**. Una décima se escribe $1/10$ o $0,1$.
- Cuando dividimos una unidad en 100 partes iguales, cada una de esas partes es una **centésima**. Una centésima se escribe $1/100$ o $0,01$.

$$1 \text{ unidad} = 10 \text{ décimas} = 100 \text{ centésimas}$$

1 Pinta del mismo color las figuras que representan el mismo número.**2 Escribe la parte que se ha coloreado en cada figura en forma de fracción y en forma decimal.**


$$5 \text{ décimas} = \frac{\quad}{\quad} = 0, \underline{\quad}$$



$$7 \text{ décimas} = \frac{\quad}{\quad} = 0, \underline{\quad}$$



$$34 \text{ centésimas} = \frac{\quad}{\quad} = \underline{\quad}$$



$$72 \text{ centésimas} = \frac{\quad}{\quad} = \underline{\quad}$$

3 Completa.

$$\bullet \quad 4 \text{ décimas} = \frac{\quad}{\quad} = \underline{\quad}$$

$$\bullet \quad 54 \text{ décimas} = \frac{\quad}{\quad} = \underline{\quad}$$

$$\bullet \quad 3 \text{ décimas} = \frac{\quad}{\quad} = \underline{\quad}$$

$$\bullet \quad 38 \text{ décimas} = \frac{\quad}{\quad} = \underline{\quad}$$

$$\bullet \quad 8 \text{ décimas} = \frac{\quad}{\quad} = \underline{\quad}$$

$$\bullet \quad 86 \text{ décimas} = \frac{\quad}{\quad} = \underline{\quad}$$