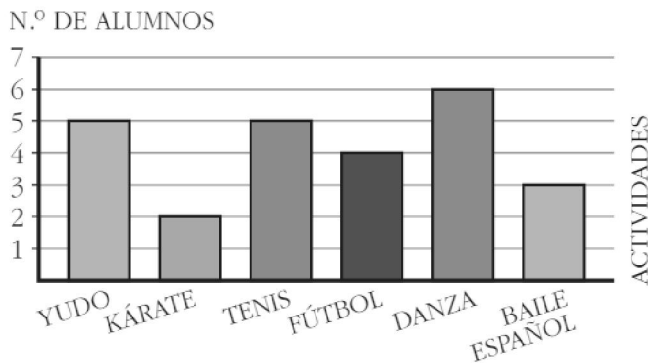
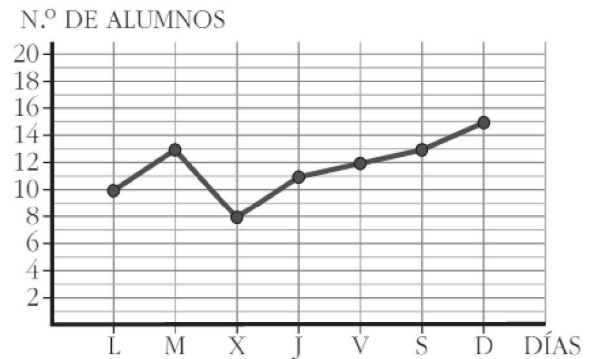


En un **gráfico de barras** cada dato está representado por una barra cuya altura indica el número de veces que se repite.



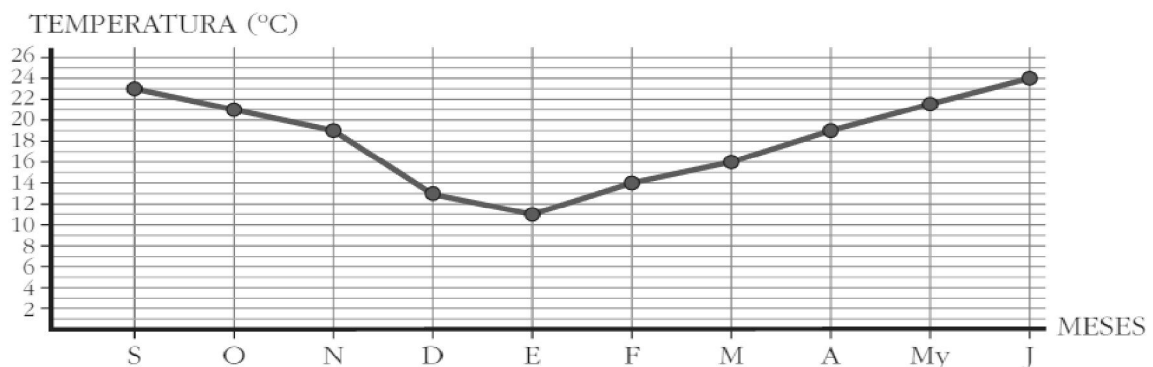
En un **gráfico de líneas** cada dato está representado por un punto cuya altura indica el número de veces que se repite.



1 Observa el gráfico de barras anterior y responde.

- ¿Cuál es la actividad preferida en la clase?
- ¿Cuántos alumnos son en clase?
- ¿Por qué la actividad física o el deporte es un hábito de vida saludable? Aparte de los deportes y actividades expuestos en el gráfico, ¿qué otros conoces? ¿Practicas alguno? ¿Cuál?

2 Observa la temperatura media de cada mes medida en la estación meteorológica del colegio.



- ¿Qué mes es el más cálido en el colegio? ¿Y el más frío?
- ¿Qué diferencia hay entre la temperatura media más alta y la más baja?
- ¿Qué diferencia hay entre la temperatura media de octubre y la de marzo?
- ¿Cuáles han sido los tres meses más fríos del curso? ¿Y los tres más cálidos?