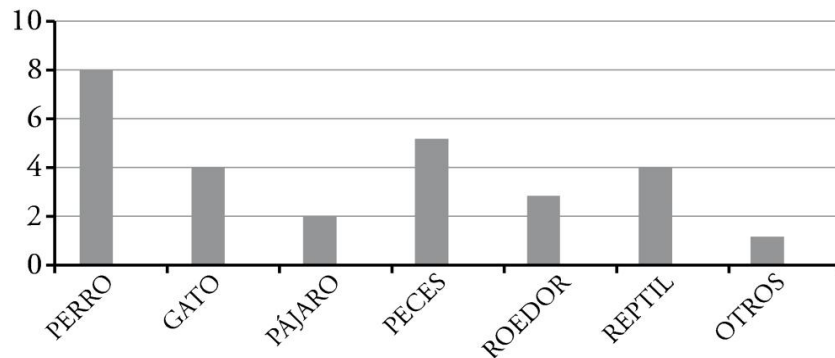


- 1 Este gráfico representa las mascotas que tienen los alumnos de una clase. Observa y responde a las preguntas.










- a) ¿Qué tipo de gráfico es?
- b) ¿Cuál es la mascota que tienen más niños?
- c) ¿Cuál es la mascota que tienen menos niños?
- d) Toma los datos de los niños de tu clase y dibújalos en el gráfico con otro color. Compara los resultados.

.....

- 2 Completa la tabla con los datos de este pictograma correspondiente al número de visitantes que ha tenido esta semana el hotel donde trabaja el padre de César:

 = 5 visitantes

						
LUNES	MARTES	MIÉRCOLES	JUEVES	VIERNES	SÁBADO	DOMINGO

	L	M	X	J	V	S	D
Visitantes							