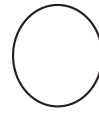
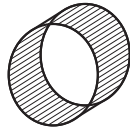
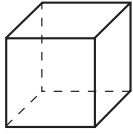
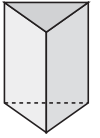
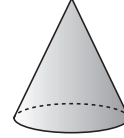
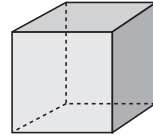
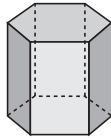
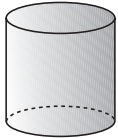


1 ¿Cuáles de estos objetos son poliedros? Coloréalos.



2 Relaciona con flechas cada figura con el nombre correspondiente.



prisma  
hexagonal

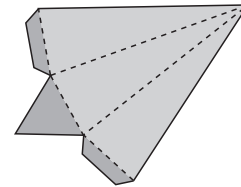
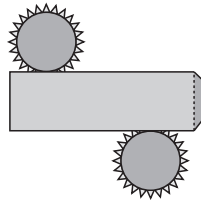
cono

prisma  
triangular

cilindro

prisma  
cuadrangular

3 ¿Qué cuerpos geométricos se pueden construir con estos desarrollos?



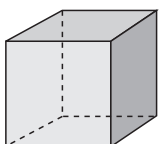
.....

.....

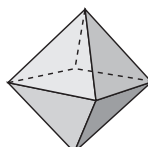
4 Se colocaron barras de acero en todas las aristas de una escultura con forma de cubo. Si cada arista medía 4 m, ¿cuántos metros de acero necesitaron?

.....

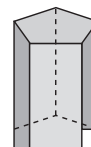
5 Escribe el número de caras laterales, aristas y vértices de los siguientes poliedros.



caras: .....  
aristas: .....  
vértices: .....



caras: .....  
aristas: .....  
vértices: .....



caras: .....  
aristas: .....  
vértices: .....