

1 Los siguientes objetos tienen forma de cuerpos redondos. Une con flechas.

Cono

Cilindro

Esfera



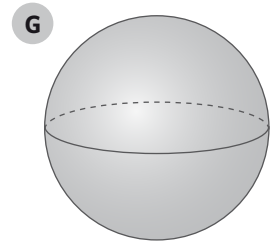
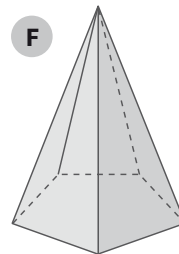
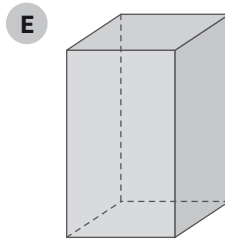
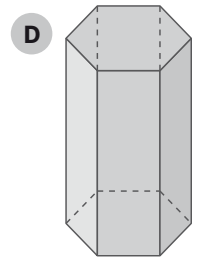
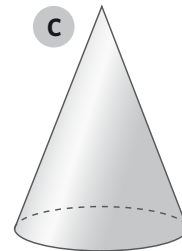
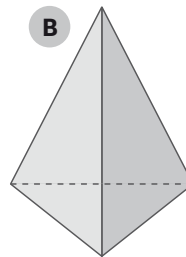
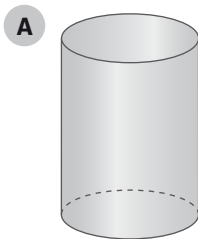
Tiene una sola base, que es un círculo, y una superficie lateral curva.

Tiene una única superficie curva.

Tiene dos bases iguales, que son círculos, y una superficie lateral curva.

2 Clasifica las siguientes figuras en la tabla.

Prismas
Pirámides
Cuerpos redondos



3 ¿Cuál de estos desarrollos planos corresponde al de una pirámide pentagonal? Rodéalo.

