


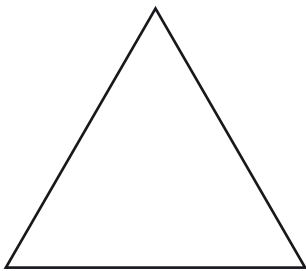
1 ¿Qué tipo de poliedro podríamos construir con este tipo de polígono? ¿Cuántas piezas necesitaríamos? Dibújalo.



.....

.....

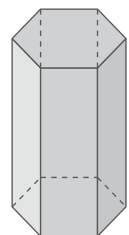
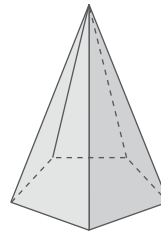
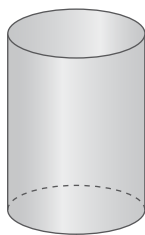
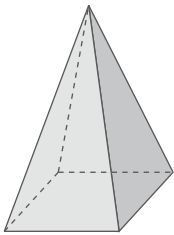
2 ¿Qué pirámide podrás construir con polígonos de esta forma? ¿Cuántas piezas necesitaríamos?



.....

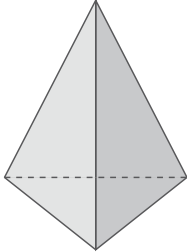
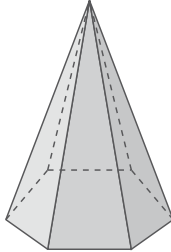
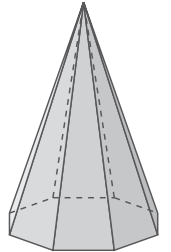
.....

3 Rodea las figuras que sean pirámides y escribe su nombre debajo.



.....

4 Completa la tabla siguiente.

			
n.º lados de la base			
n.º caras laterales			
n.º de vértices			
n.º de aristas			