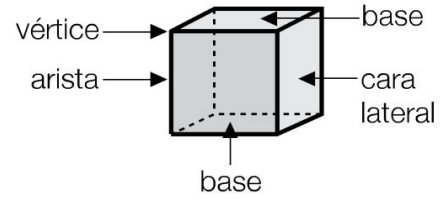
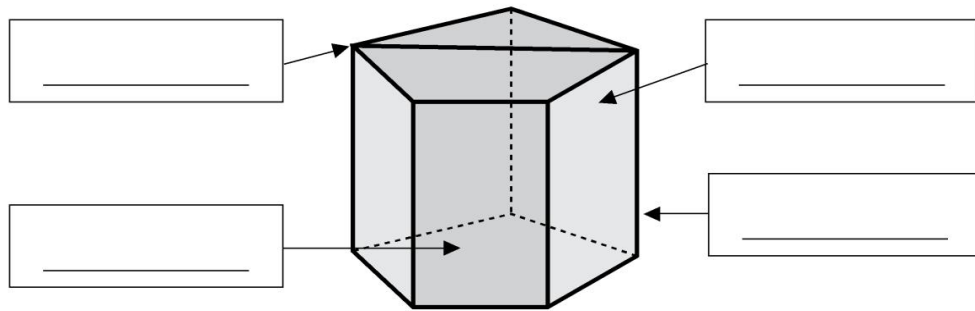


**RECUERDA**

- Los elementos de los prismas son: **bases, caras laterales, vértices y aristas.**
- Los prismas se clasifican según el polígono de sus bases.



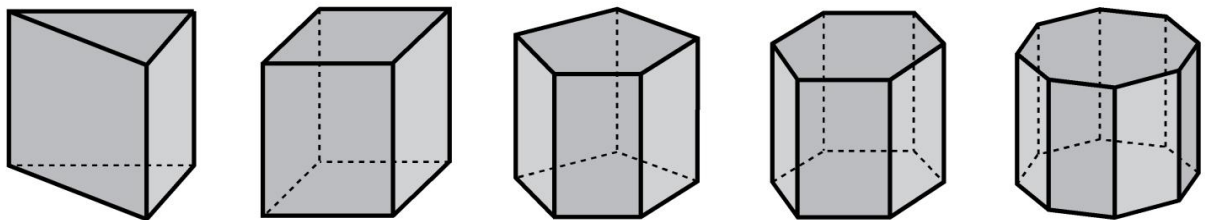
**1 Escribe el nombre de los elementos de este prisma. Después, completa.**



- Número de caras laterales ▶ \_\_\_\_\_
- Número de vértices ▶ \_\_\_\_\_
- Número de aristas ▶ \_\_\_\_\_
- Número de bases ▶ \_\_\_\_\_
- Polígono de las bases ▶ \_\_\_\_\_
- Nombre del prisma ▶ \_\_\_\_\_

**2 Escribe el nombre de estos prismas.**

Recuerda que los prismas toman el nombre del polígono de sus bases.



\_\_\_\_\_

\_\_\_\_\_