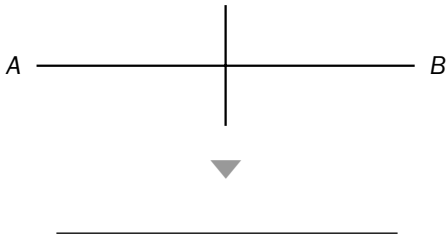
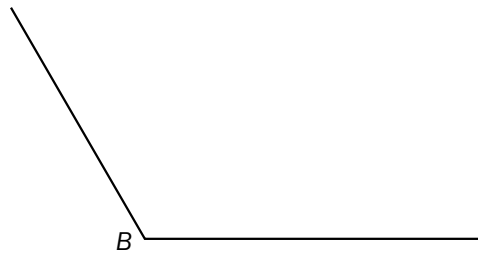
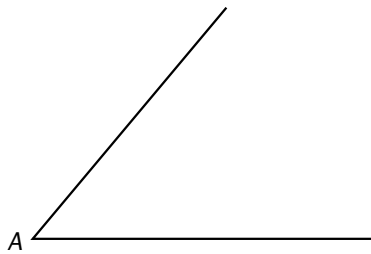


Recuerda

La **bisectriz** de un ángulo es la semirecta que pasa por su vértice y divide el ángulo en dos ángulos iguales.

1. Escribe *mediatriz* o *bisectriz* según corresponda.**2. Mide con un transportador cada ángulo, marca la mitad de dicha medida y traza su bisectriz.****3. Dibuja cada ángulo y traza su bisectriz utilizando una regla y un compás.**

• $\hat{A} = 70^\circ$

• $\hat{B} = 140^\circ$

• $\hat{C} = 190^\circ$

