

1 Representa gráficamente cada reparto.

- a) Tres empanadas, en partes iguales, entre cuatro amigos.
b) Cuatro chocolatinas, en partes iguales, entre seis amigos.


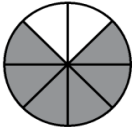
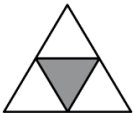
a)



b)



2 Completa la tabla.

FIGURA	PARTE COLOREADA	PARTE SIN COLOREAR
	$\frac{3}{8} \rightarrow$ Tres octavos	$\frac{5}{8} \rightarrow$
		
		

3 Completa la tabla.

FRACCIÓN DECIMAL	NÚMERO DECIMAL	SE LEE...
$\frac{9}{10}$	0,9	Nueve décimas
$\frac{27}{10}$		
$\frac{45}{100}$		

4 Ordena estas fracciones de mayor a menor:

$$\frac{5}{10}, \frac{7}{10}, \frac{2}{10}, \frac{9}{10}, \frac{10}{10}, \frac{3}{10} \rightarrow \boxed{} > \boxed{} > \boxed{} > \boxed{} > \boxed{} > \boxed{}$$