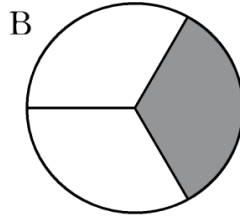
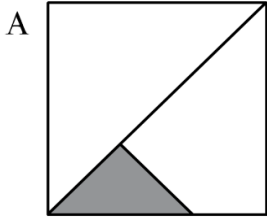


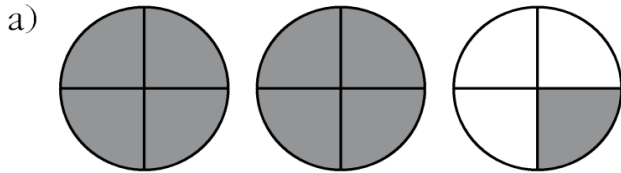
1 Rodea la figura en la que se ha coloreado un tercio.

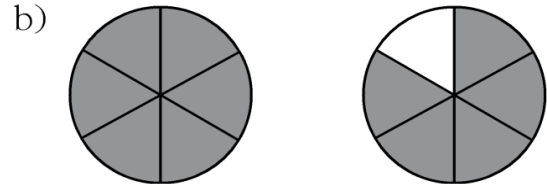


2 Mencía repartió en la fiesta, a partes iguales, 6 pizzas entre todos los presentes. Si cada uno recibió $\frac{1}{10}$ de pizza, ¿cuántas personas había en la fiesta?

.....

3 Expresa con una fracción la parte coloreada en cada caso.





4 Completa la tabla.

FRACCIÓN DECIMAL	NÚMERO DECIMAL	SE LEE...
$\frac{8}{10}$		
	0,01	
	0,004	
$\frac{5}{100}$		
		Diecisiete milésimas