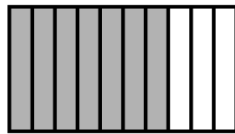



Recuerda.

- Los términos de una fracción son: numerador y denominador.
- El denominador indica las partes en que se divide la unidad.
- El numerador indica las partes que se toman de la unidad.

1 Escribe la fracción que representa la parte coloreada y contesta.



- ¿Qué fracción tiene el numerador menor? ¿Cómo se lee esta fracción?
- ¿Qué fracción tiene el denominador mayor? ¿Cómo se lee esta fracción?

2 Observa la figura y colorea.

ROJO

$$\frac{2}{10}$$




AZUL

$$\frac{3}{10}$$

VERDE

$$\frac{4}{11}$$



AMARILLO

$$\frac{5}{11}$$

- ¿Qué fracción de la figura queda sin colorear? ¿Cómo se lee?
- ¿Qué fracción de la figura queda sin colorear? ¿Cómo se lee?

3 En cada caso, escribe tres fracciones.

- De numerador 5.
- De denominador 12.