

Nombre _____ Fecha _____

1 Completa.


- La Tierra tarda un día en
.
- La Tierra tarda un año en
.
- La Luna gira continuamente alrededor de la .

2 Observa el dibujo y colorea las máquinas según la clave.




azul Funcionan con electricidad.

rojo Funcionan con gasolina.

verde Funcionan con la fuerza de las personas.



3 Escribe V si es un animal vertebrado o I si es un animal invertebrado.



4 ¿De qué animal se trata? Lee y escribe.

- Tiene escamas y aletas.
- Nace del vientre de su madre.
- Nace en el agua y vive en la tierra y en el agua.
- Tiene escamas y reptas.
- Tiene pico, alas y plumas.
- Es un animal invertebrado.

▶

▶

▶

▶

▶

▶

5 Escribe el nombre de cada planta en su lugar.



encina

amapola

trigo

ciprés

lavanda

tomillo

Árboles

Arbustos

Hierbas