

# Evaluación final


Nombre \_\_\_\_\_ Fecha \_\_\_\_\_

**1** Escribe cada palabra en su lugar. Después, rodea de rojo los músculos.

fémur	costillas	pelvis	radio
bíceps	cúbito	pectoral	tibia
			gemelo

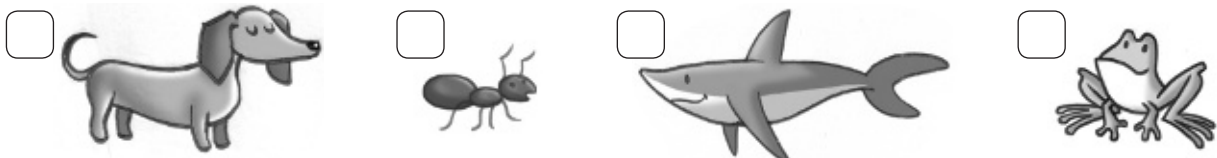
Brazo	Pierna	Tronco
_____	_____	_____
_____	_____	_____
_____	_____	_____

**2** Elige tres alimentos adecuados para elaborar un menú saludable para la comida.



- Primer plato: \_\_\_\_\_
- Segundo plato: \_\_\_\_\_
- Postre: \_\_\_\_\_

**3** Escribe V si es un animal vertebrado o I si es un animal invertebrado.



**4 ¿Qué tipo de animales son? Escribe.**

- Animal vertebrado que vive en el agua y tiene aletas.
- Animal ovíparo que nace en el agua y puede vivir en el agua o en la tierra.
- Animal vivíparo que tiene el cuerpo cubierto de pelo.
- Animal ovíparo que tiene el cuerpo cubierto de escamas y reptá.
- Animal ovíparo que tiene alas, pico y plumas.
- Animal ovíparo e invertebrado que tiene dos antenas.

▶ ▶ ▶ ▶ ▶ ▶ 

**5 Relaciona cada dibujo con el tipo de planta que es. Después, responde.**



árbol



arbusto




hierba

- ¿Cuáles son las partes que tienen todas las plantas?

- ¿Cómo se llama el tallo de los árboles?

**6** Observa el dibujo y completa el texto.




asciende    lluvia    nubes    vapor    enfría    nieve    caliente

El agua del mar se  y se convierte en  de agua. Parte de ese vapor  y así se forman las . Cuando el vapor de agua se , cae de nuevo a la tierra en forma de  o de .

**7** Escribe cada número en su lugar.

1. Sierra
2. Campos de cultivo
3. Río
4. Playa
5. Acantilado
6. Isla



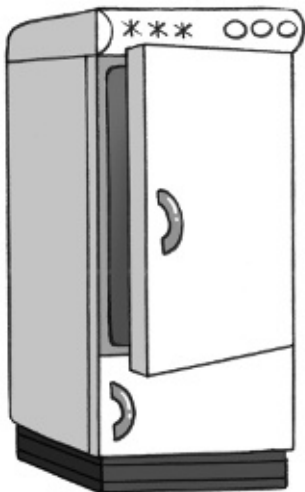
### 8 Completa.

- El  es la estrella más cercana e importante para la Tierra.
- Las estrellas son grandes astros que emiten  y .
- Las  son grupos de estrellas.

### 9 Relaciona.

- |  |  |
|--|--|
| <input type="radio"/> Dirigen el ayuntamiento.   | <input type="radio"/> Servicios municipales. |
| <input type="radio"/> Organiza los servicios municipales.                                    | <input type="radio"/> Alcalde y concejales.  |
| <input type="radio"/> Las tareas que se realizan en la localidad para el bienestar de todos. | <input type="radio"/> Ayuntamiento.          |

### 10 Observa esta máquina y responde.



- ¿Qué es?
- ¿Para qué sirve?
- ¿Tiene muchas o pocas piezas?
- ¿Cómo funciona?  
 Fuerza de las personas.     Gasolina.     Electricidad.

