

# Evaluación inicial

Nombre \_\_\_\_\_ Fecha \_\_\_\_\_

## 1 Completa y escribe cómo se leen.

$15 \triangleright \square D + \square U \triangleright$ 


$43 \triangleright \square D + \square U \triangleright$ 


$76 \triangleright \square D + \square U \triangleright$ 


$92 \triangleright \square D + \square U \triangleright$ 


## 2 Calcula.

$$\begin{array}{r} 36 \\ + 42 \\ \hline \square \end{array}$$

$$\begin{array}{r} 62 \\ + 14 \\ \hline \square \end{array}$$

$$\begin{array}{r} 31 \\ + 57 \\ \hline \square \end{array}$$

$$\begin{array}{r} 73 \\ + 4 \\ \hline \square \end{array}$$

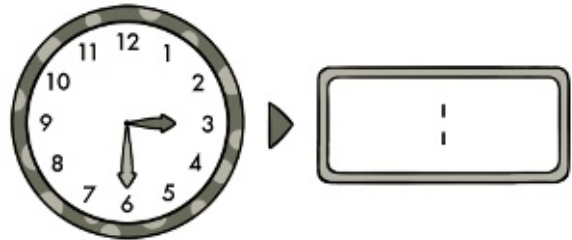

$$\begin{array}{r} 85 \\ - 63 \\ \hline \square \end{array}$$

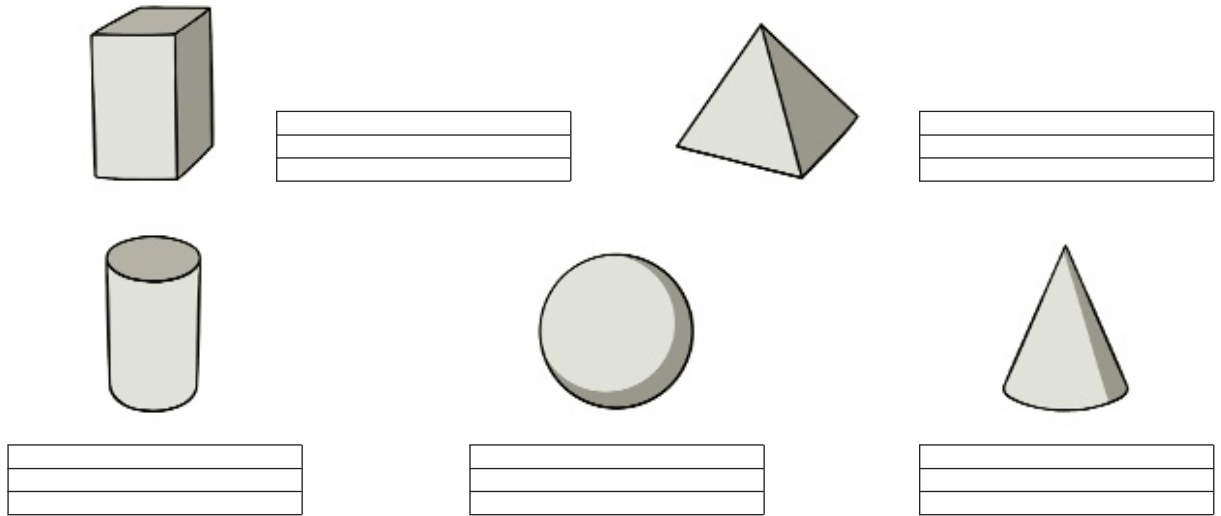
$$\begin{array}{r} 77 \\ - 45 \\ \hline \square \end{array}$$

$$\begin{array}{r} 94 \\ - 52 \\ \hline \square \end{array}$$


$$\begin{array}{r} 65 \\ - 31 \\ \hline \square \end{array}$$

## 3 Completa los relojes digitales.




**4** Escribe los nombres.**5** Lee y resuelve.

- Gonzalo tiene 63 coches rojos y 25 coches azules. ¿Cuántos coches tiene en total?



Tiene  coches en total.

- Julia ha plantado hoy 58 rosas. Ayer plantó 24 rosas menos que hoy. ¿Cuántas rosas plantó ayer?



Ayer plantó  rosas.

**6 Dibuja.**

Una línea curva cerrada

Una línea poligonal abierta

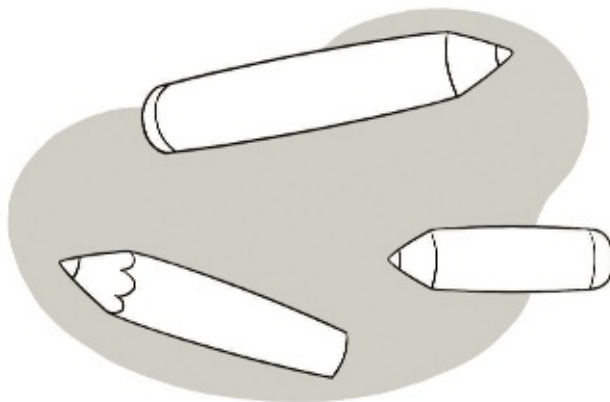
**7 Relaciona.**

triángulo      círculo      cuadrilátero      cuadrado      rectángulo

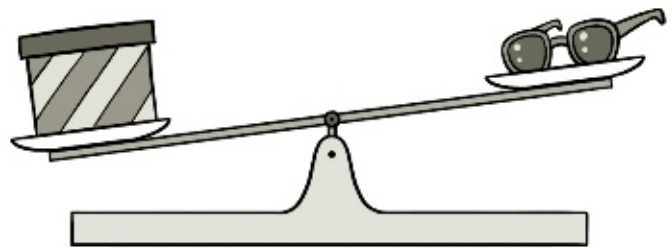
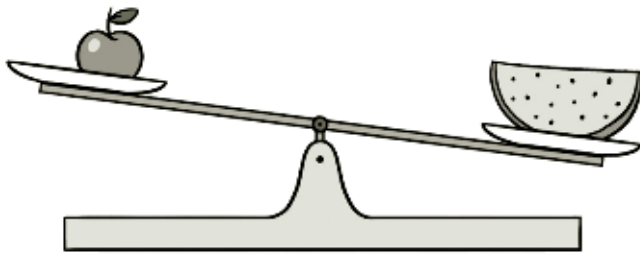
**8 Mide con la regla y colorea según la clave.**

rojo → 3 centímetros      azul → 4 centímetros


verde → 5 centímetros



9 Rodea el objeto que pesa más en cada caso.



10 Rodea las monedas que necesitas para pagar.



7 euros y  
15 céntimos



11 Escribe el día de la semana correspondiente.

Ayer

\_\_\_\_\_  
\_\_\_\_\_

viernes

Hoy

\_\_\_\_\_  
\_\_\_\_\_

Mañana

\_\_\_\_\_  
\_\_\_\_\_

\_\_\_\_\_  
\_\_\_\_\_