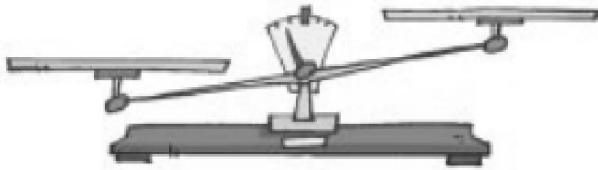
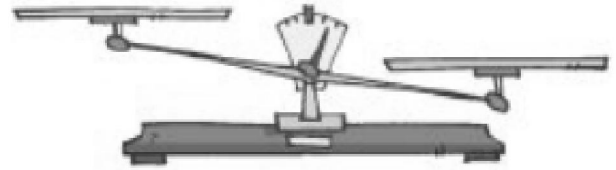


Nombre: \_\_\_\_\_ Fecha: \_\_\_\_\_

● Dibuja.




Las patatas pesan más de 3 kilos.




Las cebollas pesan menos de 2 kilos.


● Dibuja las pesas que necesitas para igualar el peso de las bolsas.



● Observa y une las cestas que pesan lo mismo.



● Averigua cuántos kilos hay en total.



.....  
.....  
.....  
.....  
.....