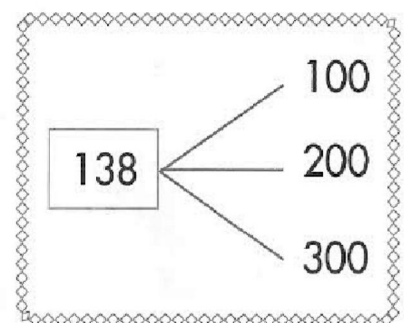
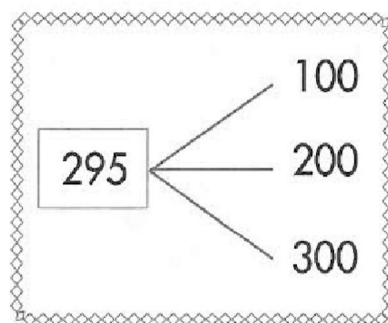
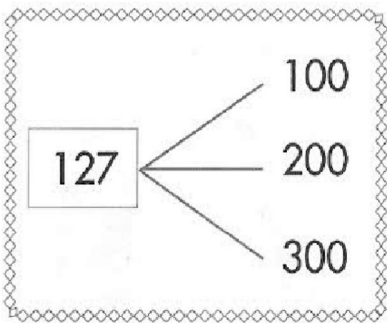
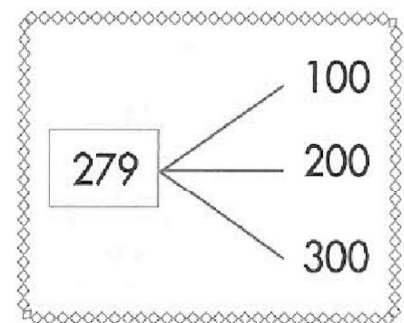
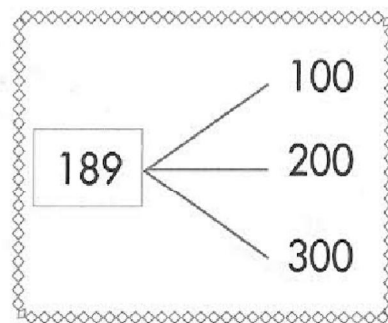
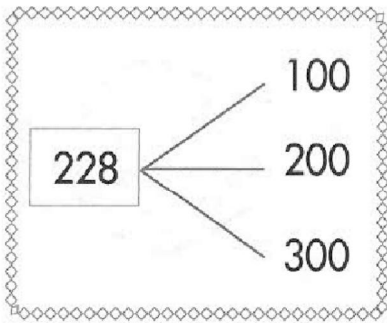


Nombre: \_\_\_\_\_ Fecha: \_\_\_\_\_

● Rodea la centena más próxima.



● Escribe estos números:

Termino en 3 y mi decena más próxima es 40.  $\longrightarrow$

Tengo 8 decenas y 7 unidades y mi centena más próxima es 300.  $\longrightarrow$

Tengo 3 centenas, la cifra de las decenas es 0 y acabo en 6.  $\longrightarrow$

Termino en 6, tengo 0 en las decenas y mi centena más próxima es 100.  $\longrightarrow$

● Escribe los números cuya decena más próxima sea 80 y su centena más próxima sea:

100  $\longrightarrow$

200  $\longrightarrow$