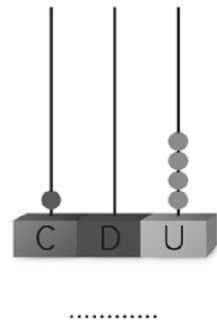
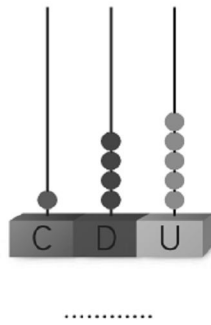




Nombre: _____ Fecha: _____

● ¿Qué números representan los ábacos? Escribe.



● Observa y completa.

$136 = 100 + 30 + 6$

$121 = \dots + \dots + \dots$

ciento treinta y seis

$142 = \dots + \dots + \dots$

$160 = \dots + \dots + \dots$

● ¿Cuál es el total de cada suma? Calcula.

$$\begin{array}{r} 100 \\ + 50 \\ \hline \end{array}$$

.....

$$\begin{array}{r} 164 \\ + 25 \\ \hline \end{array}$$

.....

$$\begin{array}{r} 125 \\ + 73 \\ \hline \end{array}$$

.....

$$\begin{array}{r} 141 \\ + 32 \\ \hline \end{array}$$

.....

$$\begin{array}{r} 182 \\ + 15 \\ \hline \end{array}$$

.....

● ¿Cuál es el anterior y el posterior de cada número?

