



Nombre: \_\_\_\_\_ Fecha: \_\_\_\_\_

● ¿Cómo continúan estas series? Escribe.

109	110		
		117	118
		128	129
136	137		
		189	190


● ¿Cuál es el número anterior? ¿Y el posterior? Escribe.

	160	
	149	
	111	

● Piensa y completa.

113	<input type="text" value="ciento trece"/>	+2	→	115
125	<input type="text" value="ciento veinticinco"/>	+2	→	.....
131	<input type="text"/>	+2	→	.....
168	<input type="text"/>	+2	→	.....

● Ordena de mayor a menor.



Si las centenas son iguales,  
comparamos las decenas y las unidades.

191    137    183    103    142    108    154

..... > ..... > ..... > ..... > ..... > .....