

Nombre: _____ Fecha: _____

- De los 75 alumnos de 2º curso, algunos han faltado a la excursión porque están enfermos. Si solo han ido 62, ¿cuántos están enfermos?



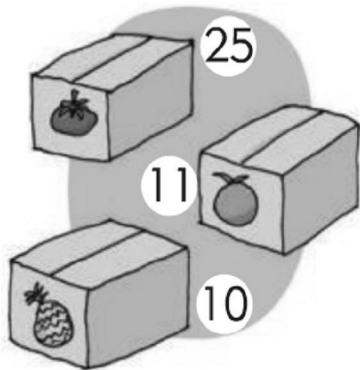
Hay alumnos de 2º.

62


Han ido alumnos de 2º.

▶ Están enfermos alumnos.

- En una tienda hay 25 cajas de zumo de tomate, 11 de naranja y 10 de piña. Averigua cuántas cajas de zumo hay en total.




Hay  .

Hay  .

Hay  .

▶ Hay cajas de zumo en total.

- En una caja hay 79 pañuelos de papel y en otra hay 25. ¿Cuántos pañuelos hay en la segunda caja menos que en la primera?



Hay pañuelos en  .

Hay pañuelos en  .

▶ Hay pañuelos menos en  .