

Nombre: \_\_\_\_\_ Fecha: \_\_\_\_\_

● Piensa y rodea estos números:

Tengo 5 decenas.  
Soy menor que 58.  
Termino en 2.

62 - 25 - 50 - 52



Soy mayor que 76.  
Mi decena más próxima es el 80.  
Tengo 9 unidades.


97 - 79 - 69 - 70

● Dibuja y resuelve.


Marcos sale de casa a las 8 y media.

Llega al colegio a las 9 menos cuarto.


Empieza la primera clase a las 9 en punto.



Hora de salida

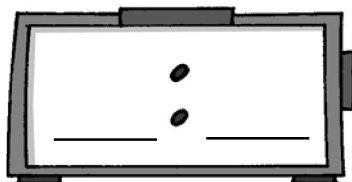


Hora de llegada



Comienzo de clase

Cada clase dura 1 hora. Tienen dos horas de clase antes del recreo.



Hora de salida al recreo

El recreo dura media hora.

¿A qué hora entran de nuevo a clase?

Entran a las 
