


Nombre: _____ Fecha: _____

● Suma y escribe los nombres de los términos.

23	→		←	47
+ 54	→		←	+ 19
_____				_____
□	→		←	□


● Coloca y suma.

Sumandos:
72 y 15




La suma es .

Sumandos:
33 y 6



La suma es .

Sumandos:
24 y 29



La suma es .

● **PROBLEMA.** Resuelve.

Elisa tiene 16 canicas y Diego tiene 17. ¿Cuántas canicas reúnen entre los dos?

DATOS

Elisa →

Diego →

Reúnen canicas.

OPERACIÓN

